

**Esame di “FONDAMENTI DI AUTOMATICA” (6 crediti) /  
“CONTROLLI AUTOMATICI”  
(A.A. fino al 2017/2018)**

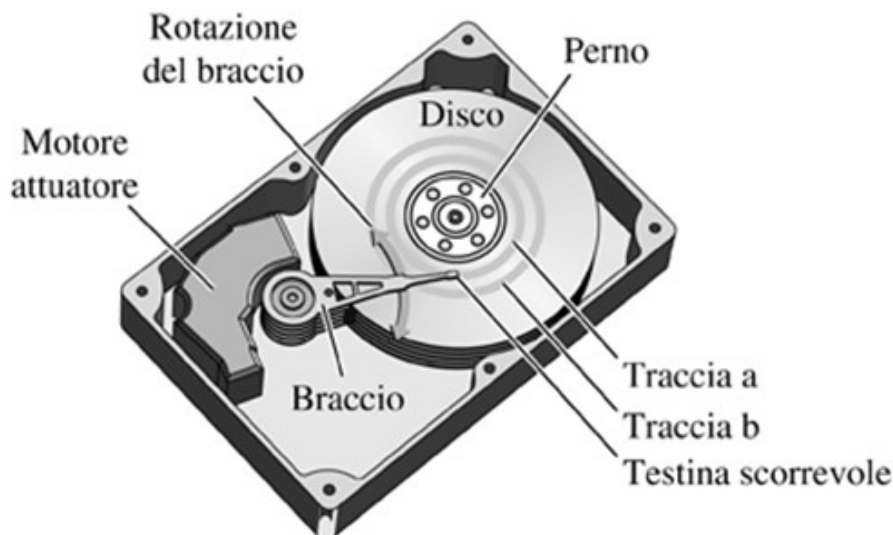
**Prova scritta – 21 febbraio 2020**

**COGNOME e NOME:** \_\_\_\_\_

**MATRICOLA:** \_\_\_\_\_

**ESERCIZIO 1.**

Si consideri il meccanismo di posizionamento della testina di lettura di un hard-disk, la costruzione è mostrata nella seguente figura:



(fonte: "Controlli automatici" – R.C.Dorf, R.H. Bishop, Ed. Pearson)

Considerando solamente le equazioni dinamiche del motore (normalmente di tipo *Voice-Coil*) per la rotazione del braccio di supporto della testina e la meccanica flessibile dello stesso braccio, si ottiene un modello matematico semplificato descritto dalle seguenti equazioni differenziali:

$$L_a \dot{I}_a + R_a I_a + K_m \dot{\theta} = V_m$$

$$J_t \ddot{\theta} + B_t \dot{\theta} + K_t \theta = K_m I_a$$

Si determini il corrispondente modello dinamico nello spazio degli stati, di ordine 3 e del tipo:

$$\dot{x}(t) = Ax(t) + Bu(t); y(t) = Cx(t) + Du(t)$$

Fissando le seguenti scelte per le variabili di stato, ingresso e uscita:

$$x_1 = I_a; x_2 = \theta; x_3 = \dot{\theta}; u = V_m; y = x_2;$$

**RISPOSTA:**

$$A =$$

$$B =$$

$$C =$$

$$D =$$

---

## ESERCIZIO 2.

Dato il modello ottenuto nell'Esercizio 1, si sostituiscano i seguenti valori per i parametri fisici:

$$L_a = 0,1; R_a = 1; K_m = 8; K_t = 4; B_t = 0,8; J_t = 0,2$$

e si verifichi se il sistema sia o meno completamente osservabile, calcolando la matrice di osservabilità ed il relativo rango.

**RISPOSTA:**

$$Q^T =$$

$$\text{rango}(Q^T) =$$

Perciò il sistema E' / NON E' completamente osservabile.

---

### ESERCIZIO 3.

Dato il seguente sistema dinamico ed il corrispondente valore dello stato all'istante  $t = 3$  secondi:

$$\dot{x}(t) = \begin{bmatrix} -2 & 0 \\ 0 & -3 \end{bmatrix} x(t) \quad x(3) = \begin{bmatrix} 3e^{-4} \\ e^{-6} \end{bmatrix}$$

Si calcoli il valore dello stato  $x(t)$  all'istante  $t = 1$  secondo:

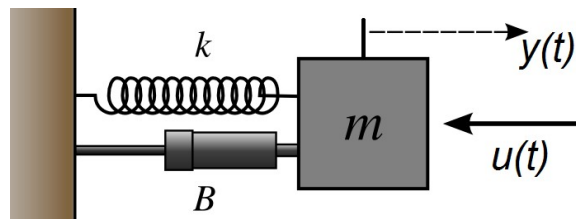
**RISPOSTA:**

$$x(1) =$$

---

### ESERCIZIO 4.

Si consideri il seguente sistema massa-molla-smorzatore (ingresso = forza applicata, uscita = spostamento della massa):



per il quale il modello matematico nello spazio degli stati risulta essere:

$$\dot{x}(t) = Ax(t) + Bu(t); \quad y(t) = Cx(t) \quad \text{con}$$

$$A = \begin{bmatrix} 0 & 1 \\ -2 & -3 \end{bmatrix} \quad B = \begin{bmatrix} 0 \\ 2 \end{bmatrix} \quad C = \begin{bmatrix} 0 & 1 \end{bmatrix}$$

Si determini la corrispondente funzione di trasferimento  $G(s)$ .

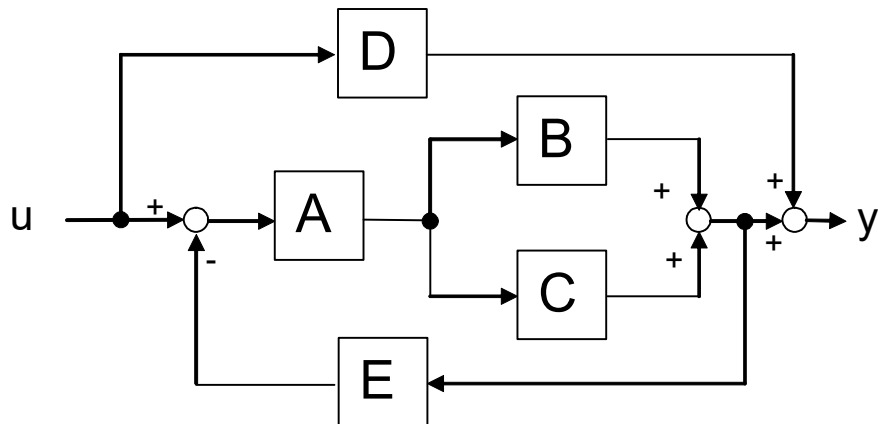
**RISPOSTA:**

$$G(s) =$$

---

### ESERCIZIO 5.

Si determini la funzione di trasferimento del seguente diagramma a blocchi:



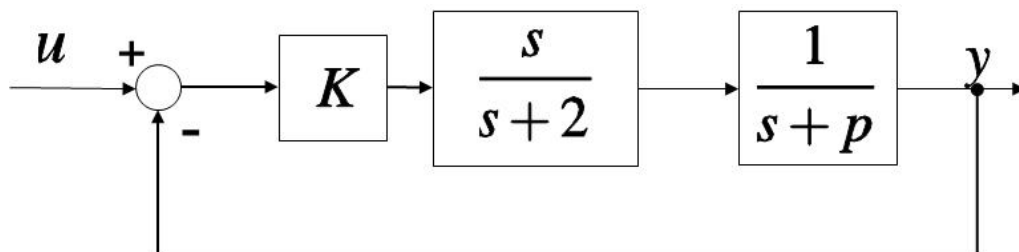
RISPOSTA:

$$Y / U =$$

---

### ESERCIZIO 6.

Dato il sistema descritto dal seguente diagramma a blocchi:



si determinino i valori di  $K$  e  $p$  tali che il sistema ad anello chiuso risulti avere pulsazione naturale  $\omega_n = 12$  e tempo di assestamento  $T_a = 0.6$  secondi.

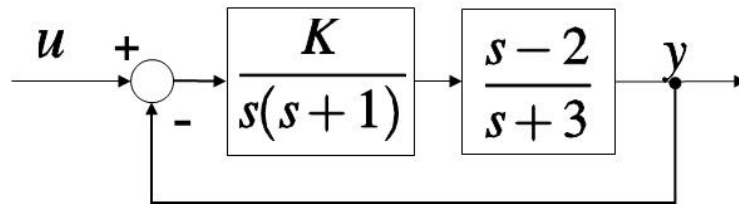
RISPOSTA:

$$K = \quad \quad \quad p =$$

---

### ESERCIZIO 7.

Dato il seguente sistema in retroazione:



si calcoli il valore di  $K \neq 0$  tale per cui il sistema considerato risulti SEMPLICEMENTE STABILE. Una volta determinato il valore di  $K$ , si calcolino i corrispondenti poli puramente immaginari.

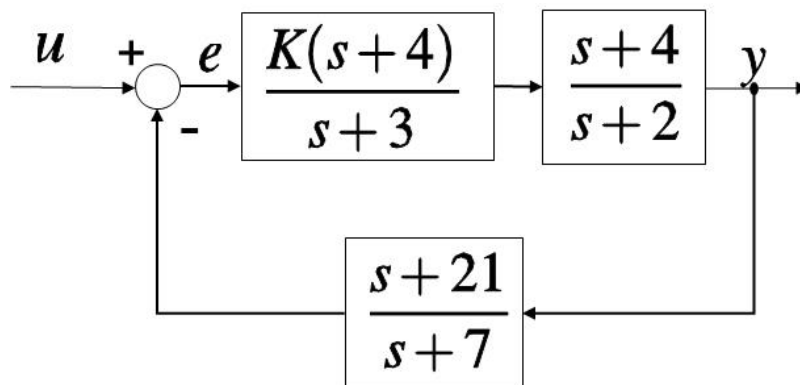
**RISPOSTA:**

$$K = \qquad p_{1,2} =$$


---

### ESERCIZIO 8.

Dato il sistema descritto dal seguente diagramma a blocchi:



si determini il valore di  $K$  tale per cui il sistema risulti avere errore a regime pari a:  $e(\infty) = 0,2$  con ingresso a gradino unitario ( $U(s) = 1/s$ )

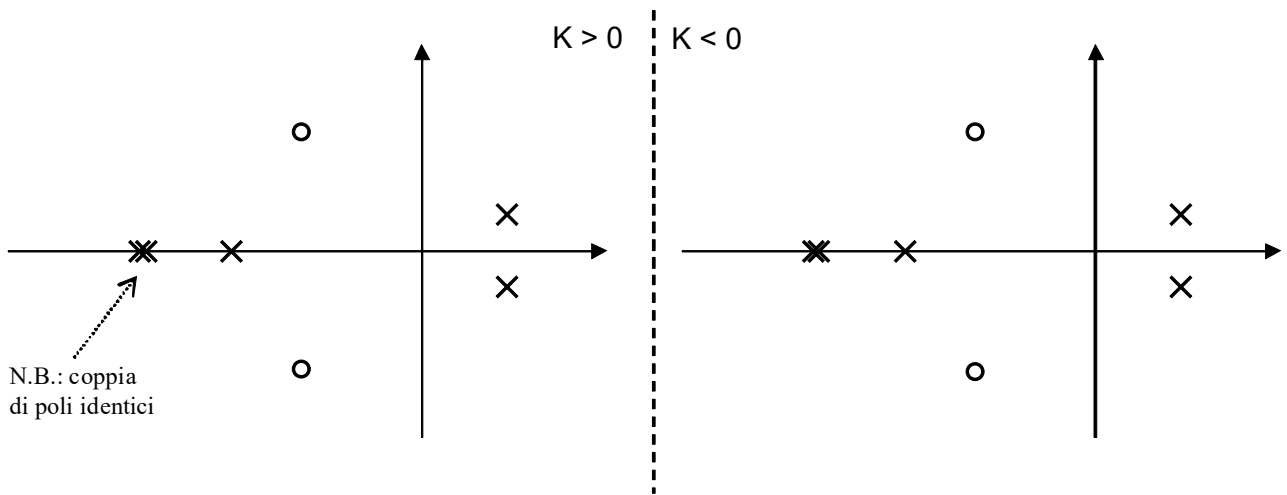
**RISPOSTA:**

$$K =$$


---

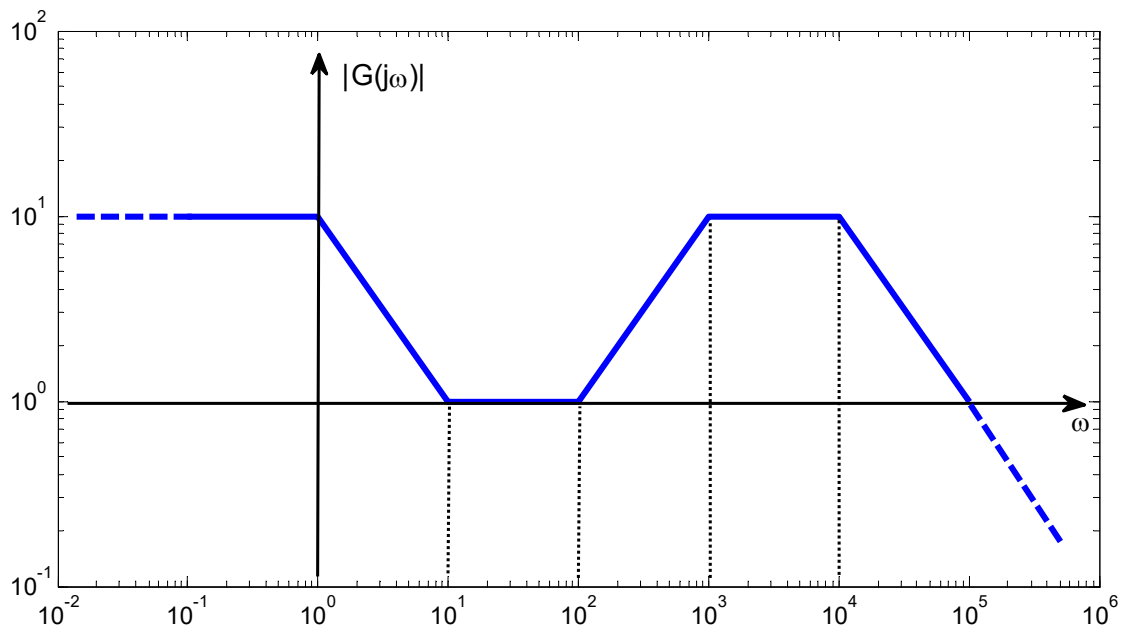
### ESERCIZIO 9.

Si tracci l'andamento qualitativo del luogo delle radici del sistema con poli (x) e zeri (o) della funzione di trasferimento d'anello come indicato in figura:



### ESERCIZIO 10.

Dato il seguente diagramma di Bode delle ampiezze:



si determini la funzione di trasferimento  $G(s)$ , supposta a fase minima.

**RISPOSTA:**

$$G(s) =$$