

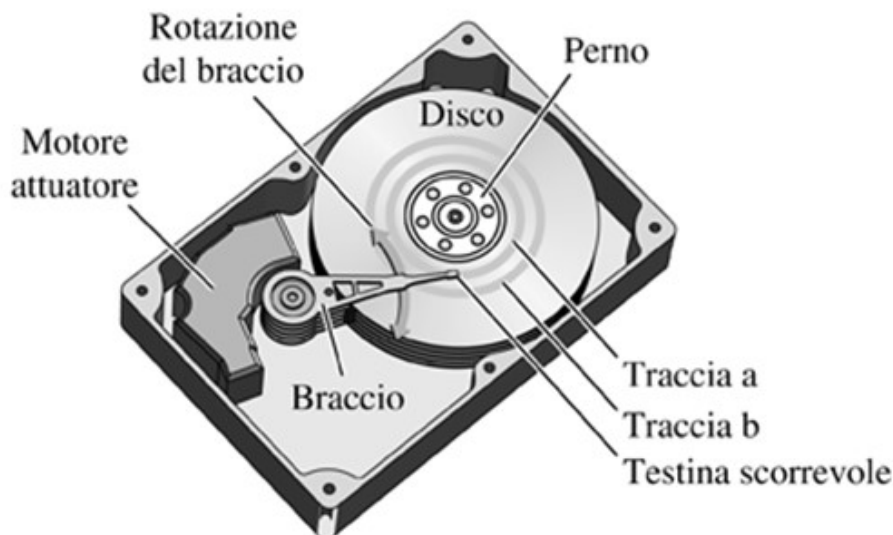
**Esame di “FONDAMENTI DI AUTOMATICA” (9 CFU)
(A.A. fino al 2017/2018)**

Prova scritta – 21 febbraio 2020

SOLUZIONE

ESERCIZIO 1.

Si consideri il meccanismo di posizionamento della testina di lettura di un hard-disk, la costruzione è mostrata nella seguente figura:



(fonte: "Controlli automatici" – R.C.Dorf, R.H. Bishop, Ed. Pearson)

Considerando solamente le equazioni dinamiche del motore (normalmente di tipo *Voice-Coil*) per la rotazione del braccio di supporto della testina e la meccanica flessibile dello stesso braccio, si ottiene un modello matematico semplificato descritto dalle seguenti equazioni differenziali:

$$L_a \dot{I}_a + R_a I_a + K_m \dot{\theta} = V_m$$

$$J_t \ddot{\theta} + B_t \dot{\theta} + K_t \theta = K_m I_a$$

Si determini il corrispondente modello dinamico nello spazio degli stati, di ordine 3 e del tipo:

$$\dot{x}(t) = Ax(t) + Bu(t); y(t) = Cx(t) + Du(t)$$

Fissando le seguenti scelte per le variabili di stato, ingresso e uscita:

$$x_1 = I_a; \quad x_2 = \theta; \quad x_3 = \dot{\theta}; \quad u = V_m; \quad y = x_2;$$

RISPOSTA:

Eseguendo i seguenti passaggi

- sostituire la notazione delle variabili di stato, ingresso e uscita
- notare che la derivata della seconda variabile di stato corrisponde alla terza variabile di stato, quindi $\dot{x}_2 = x_3$:

e rielaborando le equazioni, si ottengono le seguenti tre equazioni differenziali del primo ordine, per ciascuna derivata di una singola variabile di stato:

$$\begin{aligned}\dot{x}_1 &= -\frac{R_a}{L_a}x_1 - \frac{K_m}{L_a}x_3 + \frac{1}{L_a}u \\ \dot{x}_2 &= x_3 \\ \dot{x}_3 &= \frac{K_m}{J_t}x_1 - \frac{K_t}{J_t}x_2 - \frac{B_t}{J_t}x_3\end{aligned}$$

Da queste equazioni si ottiene direttamente la forma delle matrici A e B:

$$A = \begin{bmatrix} -\frac{R_a}{L_a} & 0 & -\frac{K_m}{L_a} \\ 0 & 0 & 1 \\ \frac{K_m}{J_t} & -\frac{K_t}{J_t} & -\frac{B_t}{J_t} \end{bmatrix} \quad B = \begin{bmatrix} \frac{1}{L_a} \\ 0 \\ 0 \end{bmatrix}$$

Le matrici C e D si ottengono in modo immediato dall'espressione dell'uscita $y = x_2$, poiché tale uscita non dipende dall'ingresso $D = 0$ (sistema puramente dinamico) e la matrice di dimensione 1×3 che estrae la seconda variabile dal vettore di stato è:

$$C = \begin{bmatrix} 0 & 1 & 0 \end{bmatrix} \quad D = \begin{bmatrix} 0 \end{bmatrix}$$

ESERCIZIO 2.

Dato il modello ottenuto nell'Esercizio 1, si sostituiscano i seguenti valori per i parametri fisici:

$$L_a = 0,1 ; \quad R_a = 1; \quad K_m = 8; \quad K_t = 4; \quad B_t = 0,8 ; \quad J_t = 0,2$$

e si verifichi se il sistema sia o meno completamente osservabile, calcolando la matrice di osservabilità ed il relativo rango.

RISPOSTA:

Le matrici del sistema, di interesse per l'analisi di osservabilità (i.e. B non è di interesse), diventano:

$$A = \begin{bmatrix} -10 & 0 & -80 \\ 0 & 0 & 1 \\ 40 & -20 & -4 \end{bmatrix} \quad C = \begin{bmatrix} 0 & 1 & 0 \end{bmatrix}$$

Pertanto:

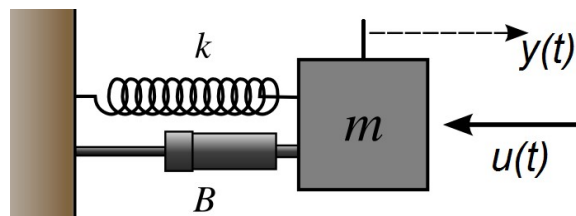
$$Q^T = \begin{bmatrix} C^T & A^T C^T & (A^T)^2 C^T \end{bmatrix} = \begin{bmatrix} 0 & 0 & 40 \\ 1 & 0 & -20 \\ 0 & 1 & -4 \end{bmatrix}$$

$$\text{rango}(Q^T) = 3$$

Perciò il sistema **E'** ~~NON E'~~ completamente osservabile.

ESERCIZIO 3.

Si consideri il seguente sistema massa-molla-smorzatore (ingresso = forza applicata, uscita = spostamento della massa):



per il quale il modello matematico nello spazio degli stati risulta essere:

$$\dot{x}(t) = Ax(t) + Bu(t); \quad y(t) = Cx(t) \quad \text{con}$$

$$A = \begin{bmatrix} 0 & 1 \\ -2 & -3 \end{bmatrix} \quad B = \begin{bmatrix} 0 \\ 2 \end{bmatrix} \quad C = \begin{bmatrix} 0 & 1 \end{bmatrix}$$

Si determini la corrispondente funzione di trasferimento $G(s)$.

RISPOSTA:

La funzione di trasferimento del sistema è:

$$G(s) = C (sI - A)^{-1} B$$

Poiché la matrice centrale nella formula risulta:

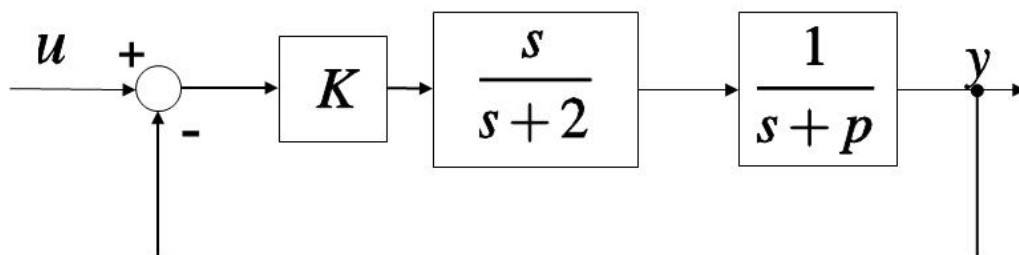
$$(sI - A)^{-1} = \begin{bmatrix} \frac{s+3}{s^2+3s+2} & \frac{1}{s^2+3s+2} \\ -\frac{2}{s^2+3s+2} & \frac{s}{s^2+3s+2} \end{bmatrix}$$

la funzione di trasferimento è:

$$G(s) = \frac{2s}{s^2+3s+2}$$

ESERCIZIO 4.

Dato il sistema descritto dal seguente diagramma a blocchi:



si determinino i valori di K e p tali che il sistema ad anello chiuso risulti avere pulsazione naturale $\omega_n = 12$ e tempo di assestamento $T_a = 0.6$ secondi.

RISPOSTA:

Il denominatore del sistema ad anello chiuso risulta $= s^2 + (K + p + 2) s + 2 p$.

Confrontando tale polinomio con il denominatore tipico dei sistemi del secondo ordine $s^2 + 2\delta\omega_n s + \omega_n^2$, si può notare che il coefficiente del terzo termine corrisponde a $\omega_n^2 = 2p = 144$, da cui si ricava immediatamente $p = 72$.

Poiché le specifiche richieste dal testo sono compatibili con un coefficiente di smorzamento $\delta = 3 / (0,6 * 12) = 0,4167$ (NOTA: il sistema di secondo ordine di riferimento si considera sempre con poli complessi e coniugati, cioè con $0 \leq \delta \leq 1$), il tempo di assestamento si può considerare approssimato dalla formula:

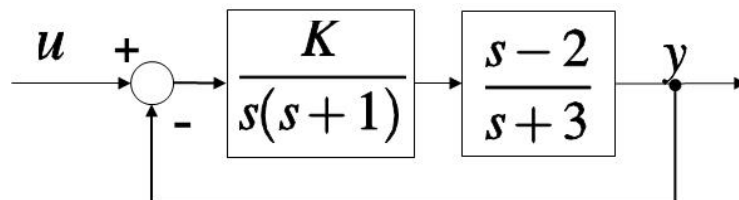
$$T_a = 3 / (\delta \omega_n)$$

Dati quindi i valori di p e δ , è necessario che il termine di primo grado nel denominatore ad anello chiuso, dipendente da K e p , sia pari a 10. Pertanto il risultato finale è

$$K = -64 \quad p = 72$$

ESERCIZIO 5.

Dato il seguente sistema in retroazione:



si calcoli il valore di $K \neq 0$ tale per cui il sistema considerato risulti SEMPLICEMENTE STABILE. Una volta determinato il valore di K , si calcolino i corrispondenti poli puramente immaginari.

RISPOSTA:

Per ottenere il valore di K corrispondente alla stabilità semplice, o *marginale*, è necessario applicare il criterio di Routh cercando gli estremi dell'intervallo di stabilità per l'incognita K . Il denominatore del sistema ad anello chiuso risulta:

$$D_{cl}(s) = s^3 + 4s^2 + (K + 3)s - 2K$$

e dal criterio di Routh il sistema risulterebbe asintoticamente stabile per $-2 < K < 0$. Poiché il valore 0 è escluso dalle ipotesi del testo, la prima parte della soluzione è:

$$K = -2$$

Con questo valore di K, il denominatore risulta:

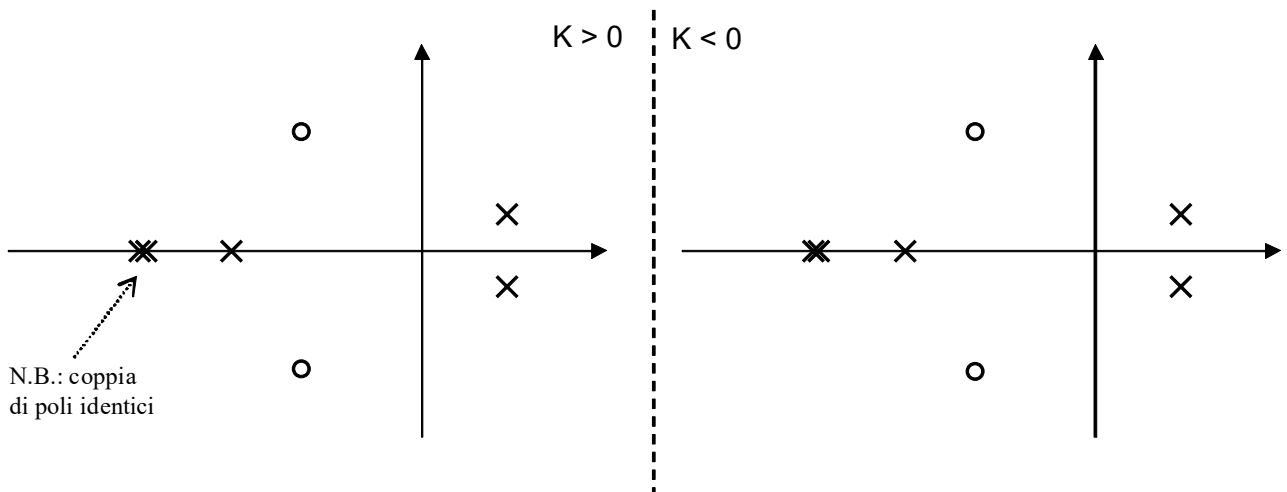
$$D_{cl}(s) = s^3 + 4s^2 + s + 4 = (s^2 + 1)(s + 4)$$

Pertanto, la coppia di poli puramente immaginari (escludendo il fattore corrispondente al polo reale in -4) è:

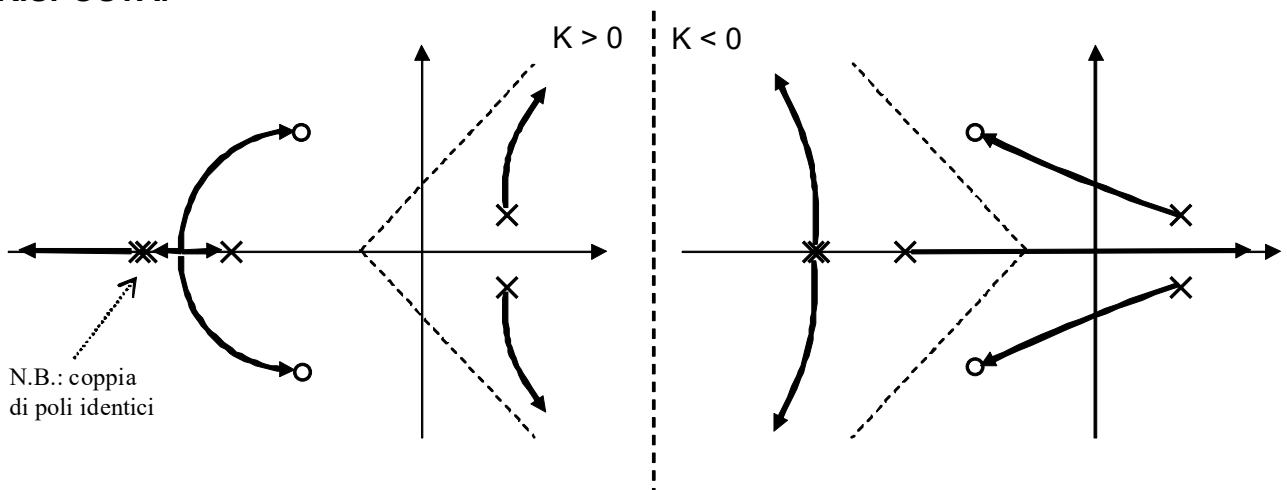
$$p_{1,2} = \pm j$$

ESERCIZIO 6.

Si tracci l'andamento qualitativo del luogo delle radici del sistema con poli (x) e zeri (o) della funzione di trasferimento d'anello come indicato in figura:



RISPOSTA:



TEST A RISPOSTA MULTIPLA

DOMANDA 1.

Un sistema singolo ingresso / singola uscita, descritto dal modello matematico

$$\dot{x}(t) = u(t); \quad y(t) = x(t)$$

- è asintoticamente stabile
- ha una funzione di trasferimento con un polo nullo
- ha una funzione di trasferimento con un polo a modulo unitario
- è puramente dinamico

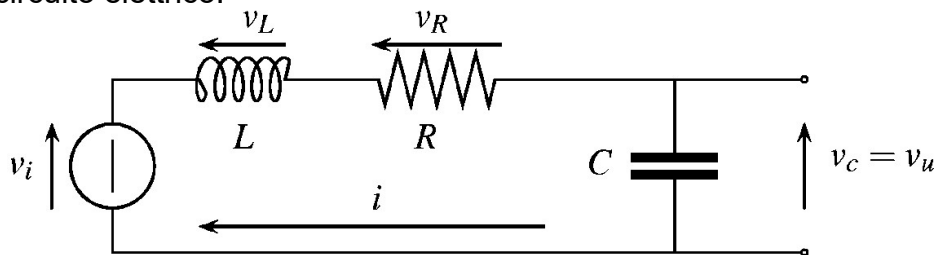
DOMANDA 2.

Gli elementi dell'esponenziale e^{At} di una matrice A (ad elementi reali) NON tendono a zero quanto t tende all'infinito. Ne consegue che la matrice A :

- è singolare
- ha tutti gli autovalori a parte reale positiva
- ha tutti gli autovalori a parte reale negativa
- ha almeno un autovalore con parte reale nulla o positiva

DOMANDA 3.

Il seguente circuito elettrico:



costituisce un sistema che, per qualunque valore di $L > 0$, $R > 0$ e $C > 0$:

- è instabile
- è asintoticamente stabile
- è semplicemente stabile
- è caratterizzato da una funzione di trasferimento del primo ordine

DOMANDA 4.

Il tempo di assestamento (al +/- 5%) del sistema avente la seguente funzione di trasferimento:

$$G(s) = \frac{1}{s+3}$$

risulta essere

- $T_a = 1$
- $T_a = 2$
- $T_a = 3$
- $T_a = 3/2$

DOMANDA 5.

Il valore a regime $Y(\infty)$ della risposta al gradino unitario ($U(s) = 1/s$) della seguente f.d.t:

$$G(s) = \frac{Y(s)}{U(s)} = \frac{s+2}{s+3}$$

- è infinito
- è finito e vale 2
- è finito e vale 2/3
- è nullo

DOMANDA 6.

Il tempo di salita T_s della risposta al gradino di un sistema retroazionato è definito come:

- il tempo necessario per raggiungere il 50% del valore finale
- il tempo necessario per raggiungere il 90% del valore finale
- il tempo necessario per passare dal 10% al 90% del valore finale
- il tempo necessario perché l'uscita rimanga entro il $\pm 5\%$ del valore finale

DOMANDA 7.

In una rete anticipatrice, all'aumentare di ω da zero all'infinito:

- agisce prima il polo e poi lo zero
- agisce prima lo zero e poi il polo
- la fase è sempre positiva
- la fase è sempre negativa

DOMANDA 8.

Il regolatore standard di tipo PID, nella forma ideale:

$$C(s) = K_p \left(1 + T_d s + \frac{1}{T_i s} \right)$$

- è un sistema fisicamente realizzabile
- non è un sistema fisicamente realizzabile
- è caratterizzato da una coppia di zeri reali se $T_i \geq 4T_d$
- è caratterizzato da una coppia di poli reali se $T_i \geq 4T_d$