

Prova al PC con Matlab Tipo – B

Esame di “FONDAMENTI DI AUTOMATICA” (9 CFU)

Istruzioni per lo svolgimento: lo studente deve consegnare (manualmente, se la prova è svolta in presenza, tramite email a marcello.bonfe@unife.it se la prova è svolta in modalità telematica) al termine della prova un archivio ZIP (o RAR) nominato **Cognome_Nome.zip** (o .rar), contenente:

- Un Matlab script file (i.e. file di testo con estensione .m o .txt) riportante i comandi eseguiti e la risposta alle eventuali richieste teoriche sotto forma di commento (i.e. riga di testo preceduta dal simbolo %)

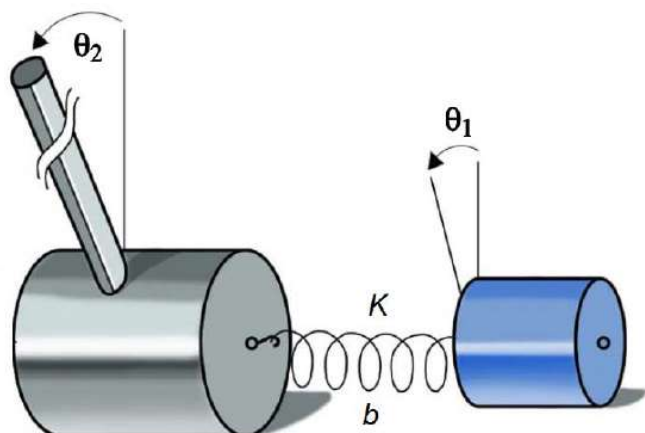
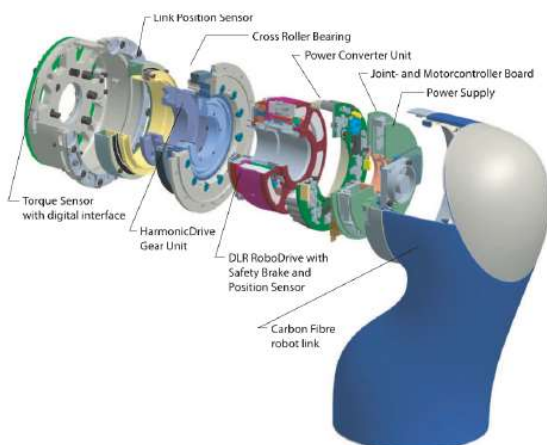
NOTA: per copiare i comandi dalla Command History, visualizzarla tramite menu “Layout → Command History → Docked”, selezionare in tale finestra le righe di interesse tramite *Ctrl+mouse left-click* e dal menu visualizzato tramite *mouse right-click* selezionare “create script”

- Le figure rilevanti per la dimostrazione dei risultati ottenuti in formato JPEG o PNG avendo cura di salvare i file delle figure quando queste mostrano le caratteristiche di interesse per la verifica del progetto (es. Settling Time, Stability Margins, ecc.).

NOTA: per salvare una figura Matlab in formato PNG o JPG, usare il menu “File → Save as” dalla finestra della figura di interesse, assegnarle un nome e selezionare l’estensione *.PNG o *.JPG nel menu a tendina “salva come”.

INTRODUZIONE

I moderni robot industriali con funzionalità collaborative (i.e. co-esistenza e interazione sicura tra umani e robot) sono spesso dotati di accoppiamenti meccanici elastici tra motori e parti in movimento, come ad esempio nel Light-Weight Robot (LWR) progettato dall’ente di ricerca tedesco DLR. La figura seguente mostra un esploso dettagliato del progetto meccanico (sinistra) e uno schema semplificato della trasmissione del moto tra motore e giunto:



(figura dal sito DLR – Institute of Robotics and Mechatronics)

Dal bilancio delle forze generalizzate applicate alle due parti in moto (i.e. rotore del motore elettrico e braccio), si ottengono le seguenti equazioni differenziali:

$$J_1 \dot{\omega}_1 = -K(\theta_1 - \theta_2) - b(\omega_1 - \omega_2) + K_m I$$

$$J_2 \dot{\omega}_2 = K(\theta_1 - \theta_2) + b(\omega_1 - \omega_2)$$

nella quale $\omega_1 = \dot{\theta}_1$ e $\omega_2 = \dot{\theta}_2$, J_1 e J_2 sono i momenti di inerzia delle due parti rotanti, K e b sono rispettivamente l'elasticità e la viscosità dell'accoppiamento meccanico, mentre I e K_m sono rispettivamente la corrente elettrica nel motore e la costante di coppia di quest'ultimo.

Fissando le seguenti scelte per stato, ingresso e uscita:

$$x_1 = (\theta_1 - \theta_2); x_2 = \omega_1; x_3 = \omega_2; u = I; y = x_3$$

Si ottiene un corrispondente modello dinamico nello spazio degli stati, del tipo

$$\dot{x}(t) = Ax(t) + Bu(t); y(t) = Cx(t) + Du(t)$$

con:

$$A = \begin{bmatrix} 0 & 1 & -1 \\ -\frac{K}{J_1} & -\frac{b}{J_1} & \frac{b}{J_1} \\ \frac{K}{J_2} & \frac{b}{J_2} & -\frac{b}{J_2} \end{bmatrix} \quad B = \begin{bmatrix} 0 \\ \frac{K_m}{J_1} \\ 0 \end{bmatrix}$$

$$C = [0 \quad 0 \quad 1] \quad D = [0]$$

ESERCIZIO 1

- a) Per il sistema descritto nell'Introduzione, si fissino i seguenti valori numerici per i parametri:

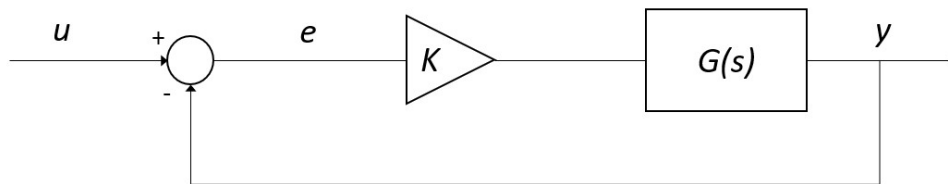
$$J_1 = J_2 = 0.1; \quad K = 0.2; \quad b = 0.08; \quad K_m = 50$$

e si ricavi la funzione di trasferimento $G(s)$ del sistema in esame

- b) Si determinino i poli della funzione di trasferimento e si verifichi se coincidono con gli autovalori di A . Descrivere il motivo di eventuali discrepanze tramite righe di commento (i.e. precedute dal simbolo %) sul file .m

ESERCIZIO 2

Si consideri il sistema in retroazione unitaria rappresentato in figura:

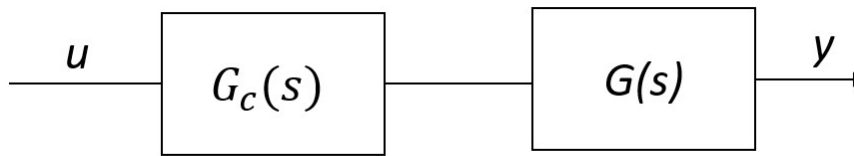


Con $G(s)$ ricavata al punto a) dell'Esercizio 1.

- a) Si verifichi se il sistema ad anello chiuso, con guadagno $K = 1$, risulti o meno stabile tramite l'analisi della risposta $y(t)$ al gradino unitario.
- b) Si determini, se esiste, il valore del guadagno K_{lim} per il quale il sistema risulta semplicemente stabile, utilizzando il grafico del luogo delle radici della funzione $G(s)$.
- c) Si ponga $K_1 = 0.8 K_{lim}$, si visualizzi l'andamento della risposta al gradino $y(t)$ del sistema chiuso in retroazione con tale guadagno e si determini il tempo d'assestamento al 5%.
- d) Si determini l'errore a regime motivandone il valore tramite righe di commento (i.e. precedute dal simbolo %) sul file .m

ESERCIZIO 3

Si consideri il sistema rappresentato in figura



Con $G_c(s) = \frac{1+\tau_1 s}{1+\tau_2 s} = \frac{1+\tau s}{1+\alpha \tau s}$ rete anticipatrice ($\tau_2 < \tau_1$ o $\alpha < 1$), $G(s)$ ricavata al punto a) dell'Esercizio 1.

Si progetti la rete anticipatrice che garantisca un margine di fase $M_f = 45^\circ$ utilizzando la procedura empirica riportata nella dispensa FdA-3.1-RetiCorrettrici o in alternativa il metodo delle formule di inversione.

In particolare:

- a) Si determinino i coefficienti τ_1 e τ_2 (o equivalentemente α e τ) della rete anticipatrice;
- b) Si visualizzino in un'unica figura i diagrammi di Bode del sistema non compensato e del sistema compensato, evidenziando i relativi margini di fase;
- c) Si verifichi la risposta al gradino del sistema compensato e chiuso in retroazione unitaria negativa e se ne determini la massima sovraelongazione percentuale.

Soluzione

ESERCIZIO 1

```
% Es 1-a: Ricavare le matrici A,B,C,D del sistema
```

```
% variabili numeriche
```

```
J1=0.1;
```

```
J2=0.1;
```

```
K=0.2;
```

```
b=0.08;
```

```
Km=50;
```

```
% definizione matrici A,B,C,D
```

```
A=[0 1 -1;-K/J1 -b/J1 b/J1;K/J2 b/J2 -b/J2];
```

```
B=[0;Km/J1;0];
```

```
C=[0 0 1];
```

```
D=0;
```

```
>> A
```

```
A =
```

```
      0      1.0000     -1.0000
     -2.0000     -0.8000      0.8000
      2.0000      0.8000     -0.8000
```

```
>> B
```

```
B =
```

```
      0
     500
      0
```

```
>> C
```

```
C =
```

```
      0      0      1
```

```
>> D
```

```
D =
```

```
      0
```

```

%% Es 1-a matrice di trasferimento
sys = ss(A,B,C,D);
G = tf(sys);

```

```
G =
```

$$\frac{400 s + 1000}{s^3 + 1.6 s^2 + 4 s - 7.216e-33}$$

```

%% Es 1-b poli di G e autovalori di A
p = pole(G);
ev = eig(A);

```

```
p =
```

```

-0.8000 + 1.8330i
-0.8000 - 1.8330i
 0.0000 + 0.0000i

```

```
ev =
```

```

-0.8000 + 1.8330i
-0.8000 - 1.8330i
 0.0000 + 0.0000i

```

```

% poli e autovalori coincidono perché il sistema è
% completamente controllabile e osservabile

```

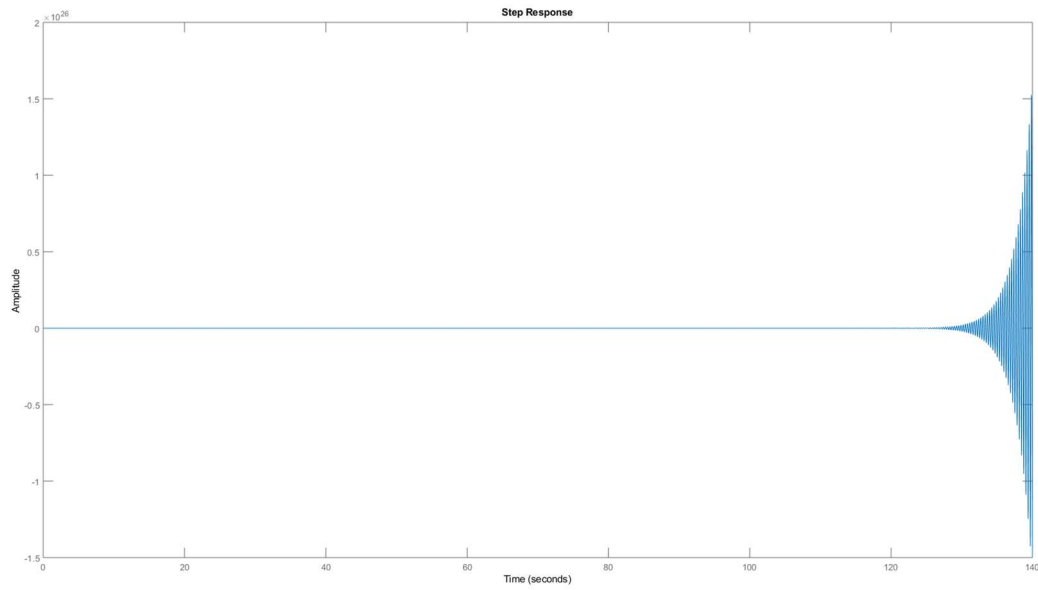
ESERCIZIO 2

```
%% Es 2-a risposta al gradino ad anello chiuso
```

```

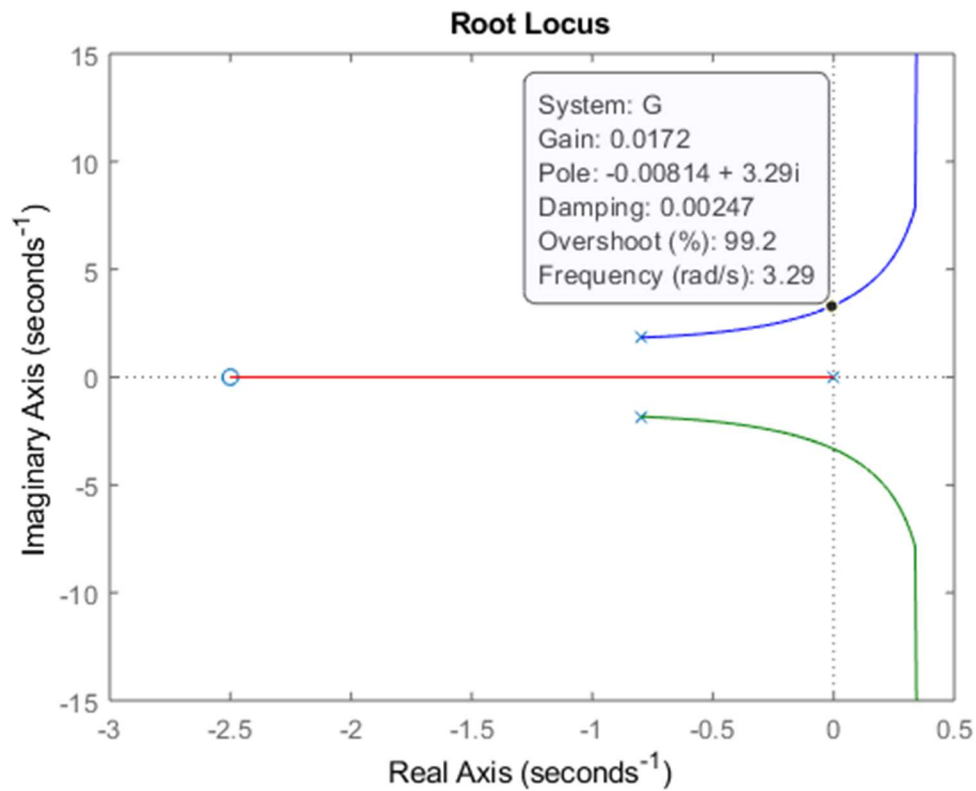
K=1;
Gcl = feedback(K*G,1);
figure,step(Gcl) % sistema instabile

```



```
%% Es 2-b Calcolo del guadagno critico o limite per la  
stabilità ad anello chiuso
```

```
% plot del luogo delle radici  
figure,rlocus(G)  
% valore selezionato dal grafico  
Klim = 0.017;
```



```
% Es 2-c risposta al gradino con guadagno 80% del
% guadagno limite
```

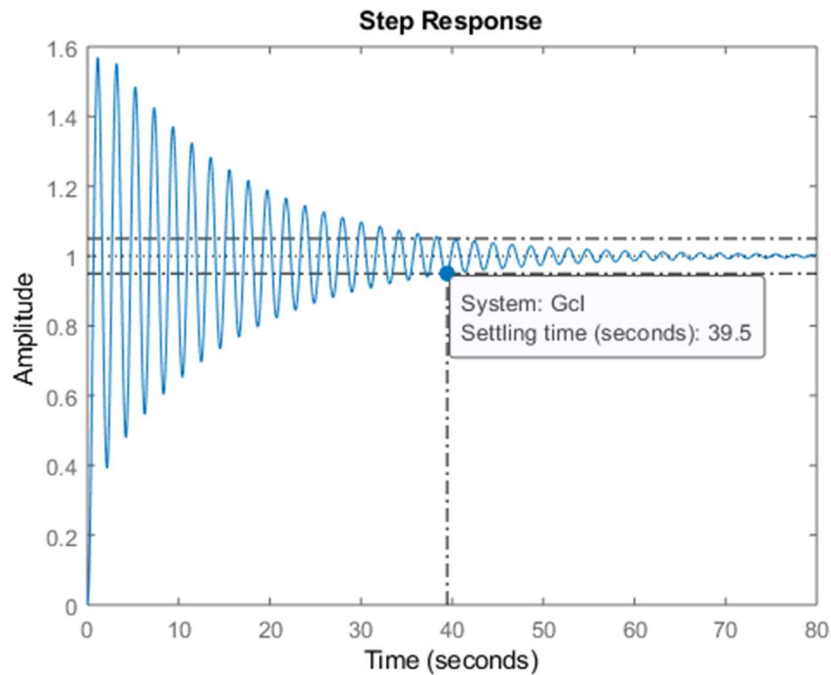
```
K1 = 0.8*Klim;
```

```
>> K1
```

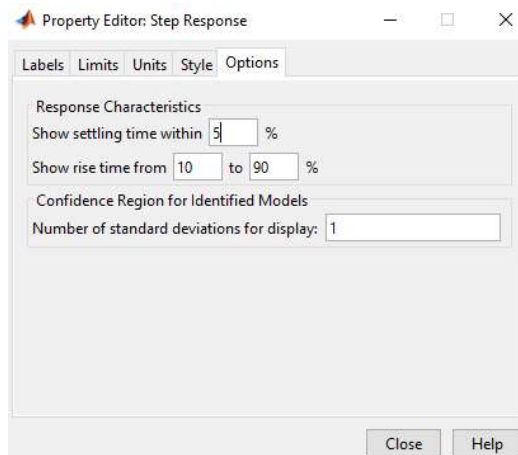
```
K1 =
```

```
0.0136
```

```
Gcl1 = feedback(K1*G,1); % FDT anello chiuso
figure,step(Gcl1); % Sistema stabile
```

NOTA BENE: impostare la visualizzazione del tempo di assestamento al 5% tramite il menu ottenuto con mouse right-click sul plot della risposta:



Oppure tramite i comandi:

```
Popt=timeoptions;
Popt.SettleTimeThreshold=0.05;
```

```
figure, step(Gcl1, Popt)
```

```
% Es 2- d considerazioni su errore a regime
```

```
p=pole(K1*G)
```

```
p =
```

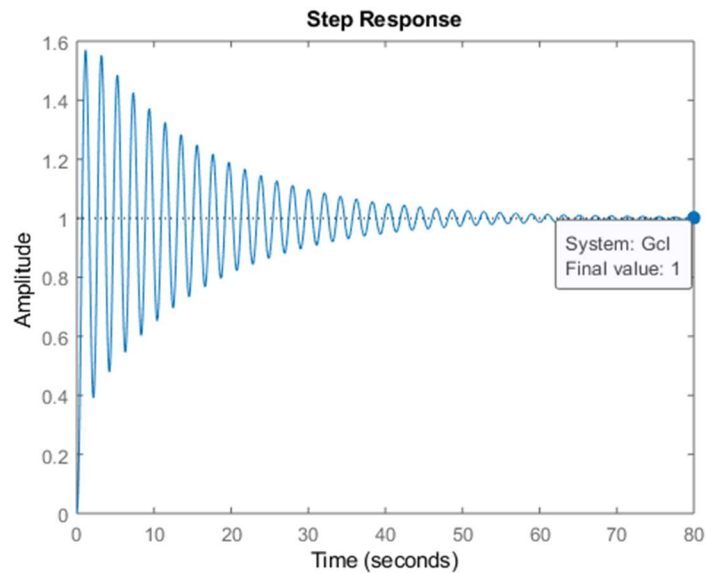
```
 -0.8000 + 1.8330i
```

```
 -0.8000 - 1.8330i
```

```
  0.0000 + 0.0000i
```

```
% come evidenziato dal grafico della risposta al gradino,
```

```
% l'uscita tende a 1 al crescere di t, infatti il sistema
% K1*G è un sistema di tipo 1 (1 polo nell'origine
% p(3)=0). Per questo tipo di sistemi l'errore a regime
% nella risposta al gradino è nullo
```



ESERCIZIO 3

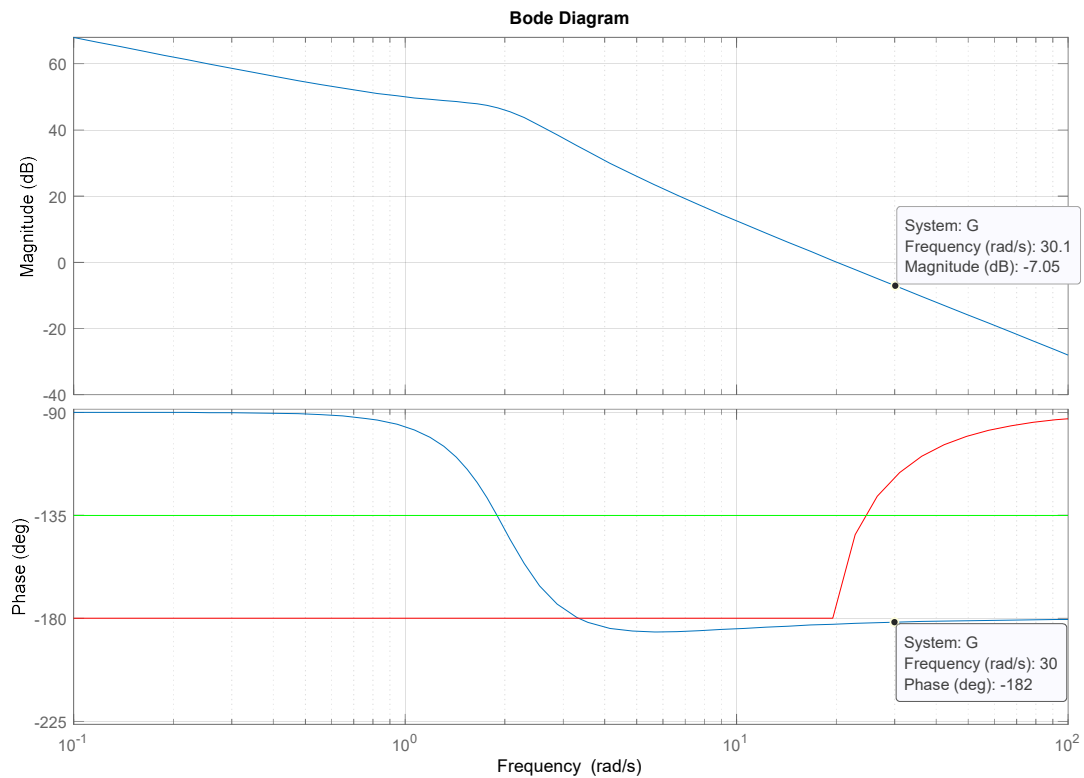
```
%% Es 3-a progetto della rete con formule d'inversione.
```

```
G1 = K*G;
```

```
Mf = 45;
```

```
leadNetDesignBode(G1,Mf);
```

```
% grafici per la verifica della realizzabilità della rete
```



```

% valori selezionati dal grafico
omega=30;
M = db2mag(7.35); % anticipatrice: amplifica
phi = 182-(180-Mf); % anticipatrice: anticipa la fase

tau1 = (M-cosd(phi))/(omega*sind(phi));
tau2 = (cosd(phi)-1/M)/(omega*sind(phi));

s=tf('s');
Gc=(1+tau1*s)/(1+tau2*s)

Gc =

    0.07515 s + 1
    -----
    0.01153 s + 1
% verifica che sia anticipatrice:
alpha = tau2/tau1 % < 1

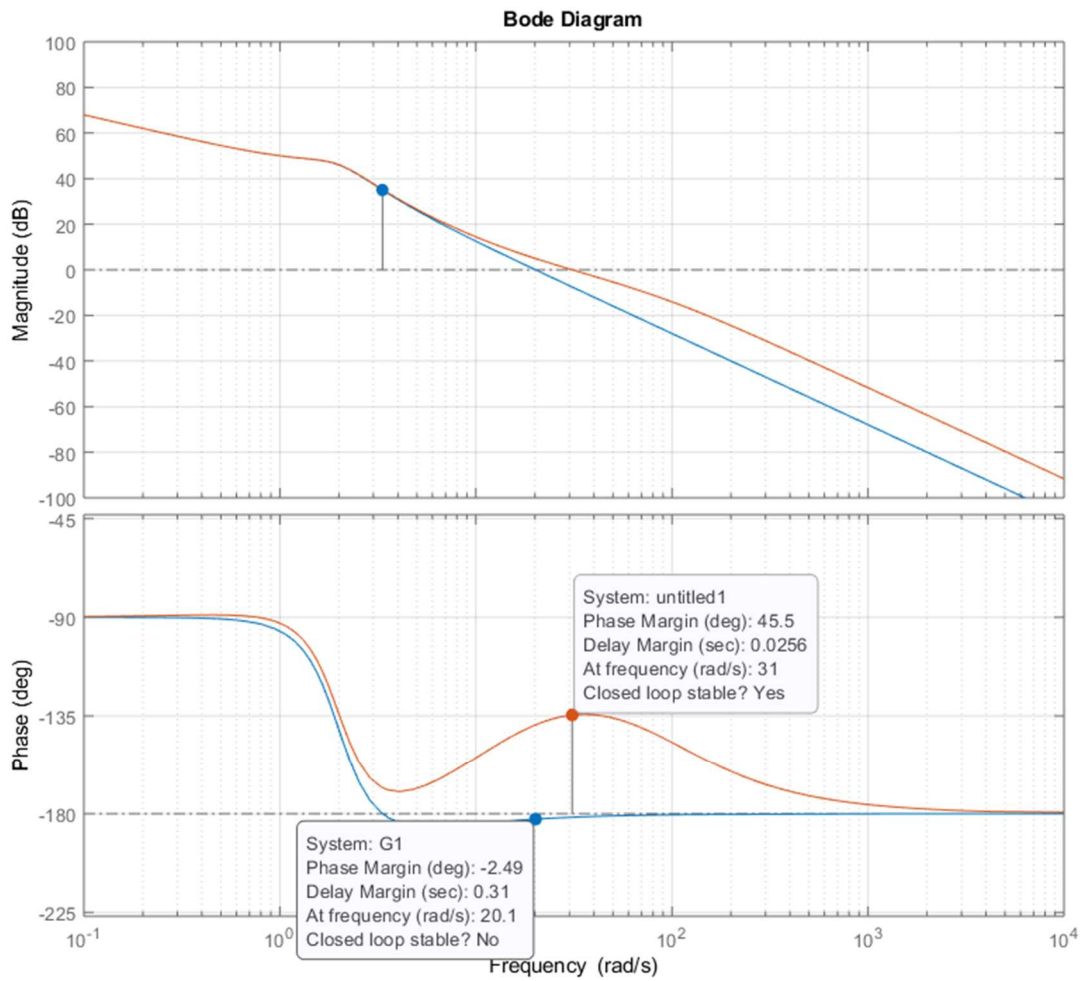
>> alpha

alpha =

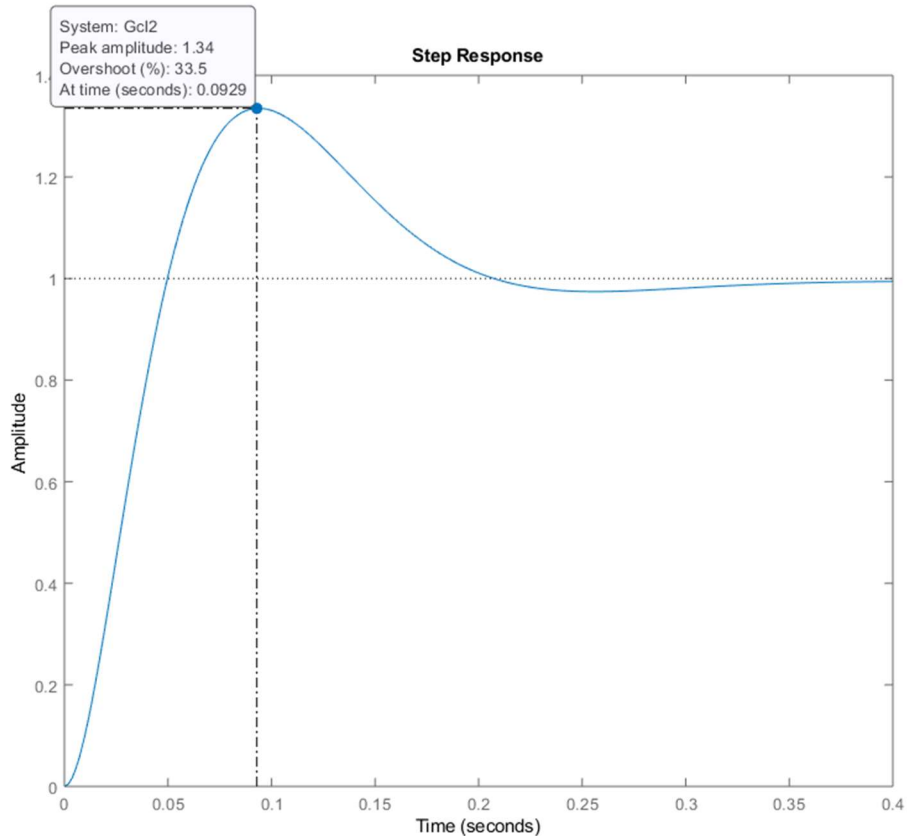
```

0.1534

```
%% Es 3-b diagrammi di bode e margini di fase
figure,bode(G1)
grid on
hold on
bode(Gc*G1) % verificare i margini
```



```
%% Es 3-c risposta al gradino e sovraelongazione
Gc12 = feedback(Gc*G1,1);
figure,step(Gc12) % overshoot 33.5%
```



ESERCIZIO 3 soluzione alternativa

`% Es 3-a progetto della rete con procedura empirica`

`G1 = K*G;`

`Mf = 45;`

`figure, bode(G1)`

`grid on`

`% passo 1: determinare l'attuale margine di fase`

`% passo 2: determinare l'anticipo di fase necessario per
 % ottenere il margine di fase voluto più un margine di
 % sicurezza`

`% passo 3: determinare alpha secondo la regola`

`% alpha = (1-sind(phi))/(1+sind(phi))`

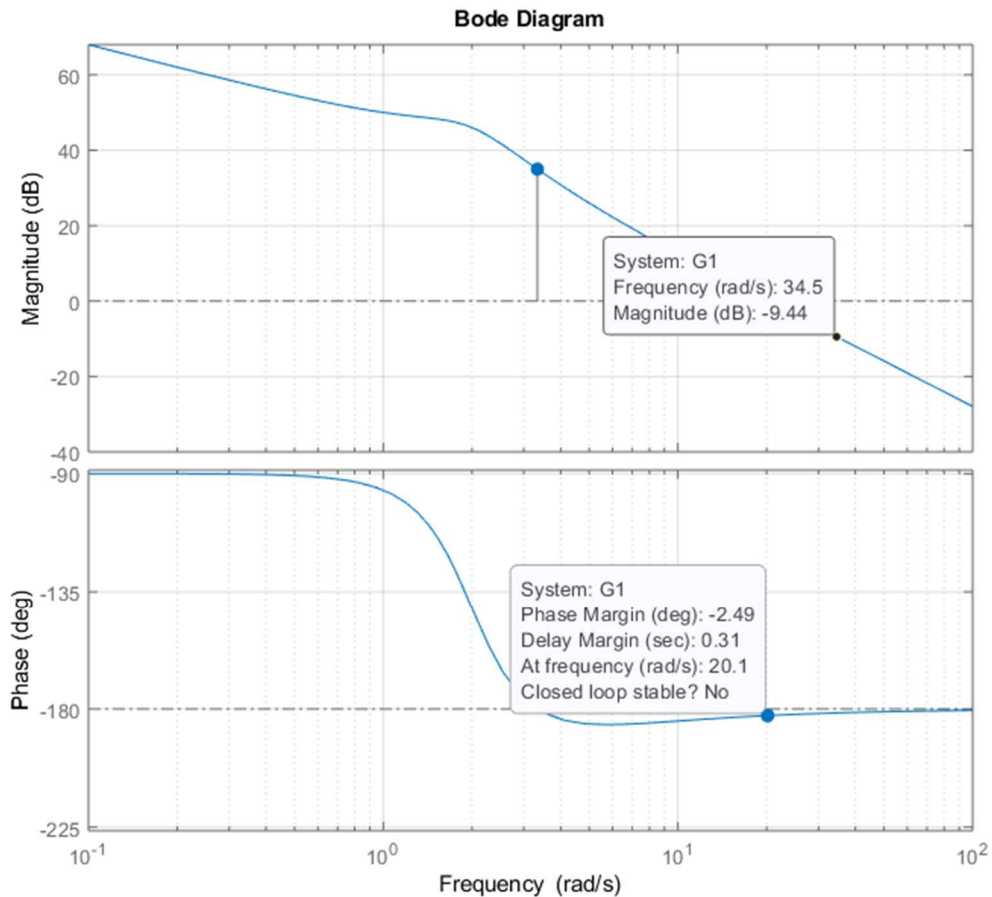
`% passo 4: determinare graficamente la pulsazione omega a
 % cui il modulo del sistema non compensato vale`

```

% -20*log10(1/sqrt(alpha))

% passo 5: ricavare tau dalla relazione
% tau = 1/(omega*sqrt(alpha))

```



```

Mf = 45;
% -2.5 (circa 3) = margine di fase attuale
% serve quindi un anticipo di fase di almeno
% Mf (desiderato) + 3 + il margine di sicurezza (altri 5)
phi = 3 + Mf + 5;
alpha = (1 - sind(phi))/(1 + sind(phi));

alpha =
    0.1120

Mm = -20*log10(1/sqrt(alpha));

Mm =
    -9.5096

```

```
omega=34.5; % valore selezionato dal grafico di ampiezza
tau = 1/(sqrt(alpha)*omega);
```

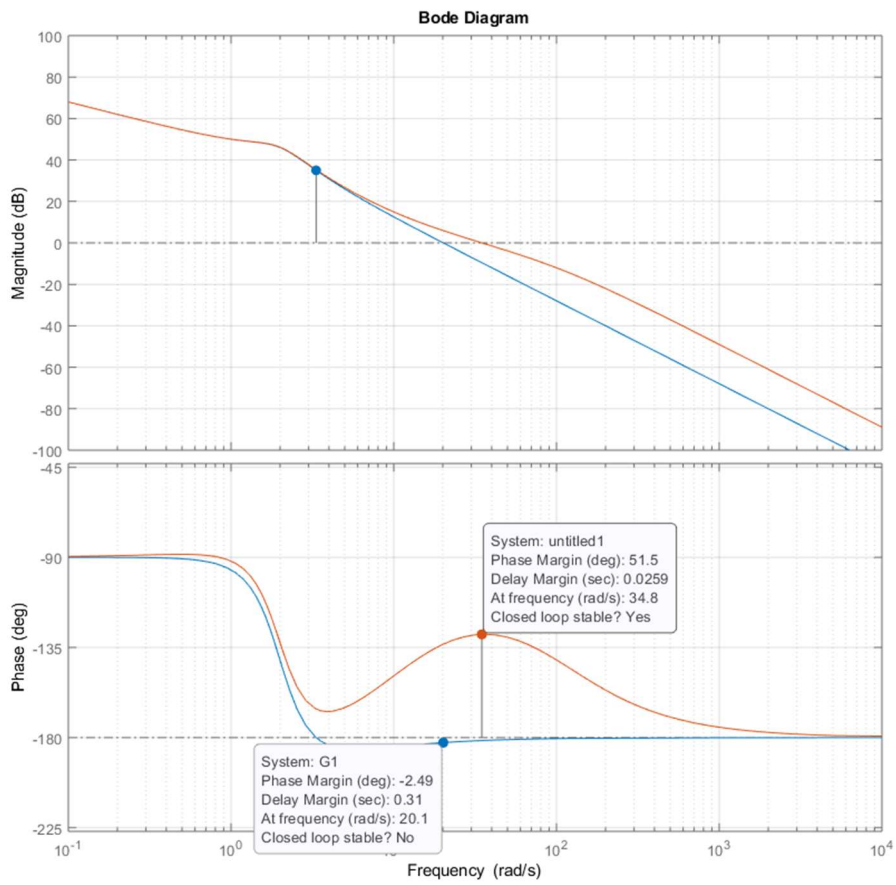
```
tau =
    0.0866
```

```
s = tf('s');
Gc = (1+tau*s)/(1+alpha*tau*s);
```

```
Gc =
    0.08663 s + 1
-----
    0.009698 s + 1
```

```
% Es 3-b diagrammi di bode e margini di fase
```

```
figure,bode(G1)
grid on
hold on
bode(Gc*G1) % verificare i margini
```



```

%% Es 3-c risposta al gradino e sovraelongazione
Gc12 = feedback(Gc*G1,1);
figure,step(Gc12) % overshoot 27%

```